





TELESZKÓPIKUS SZÓRVÁNY-METEORADATOK



Az LM közepe: RA ____^h ____^m D ____°
Műszer: _____ LM-átmérő: ____°

Az LM közepe: RA ____^h ____^m D ____°
Műszer: _____ LM-átmérő: ____°



Az LM közepe: RA ____^h ____^m D ____°
Műszer: _____ LM-átmérő: ____°

Az LM közepe: RA ____^h ____^m D ____°
Műszer: _____ LM-átmérő: ____°

No.	Feltűnés ideje (UT)		Fényes- ség m	Szín, gyorsaság, megjegyzések	Észlelő, észlelés helye
	dátum	időpont h : m : s			
1.					
2.					
3.					
4.					